

Cari bimbi e genitori queste sono le attività da eseguire:

ITALIANO

- LEGGI, RICOPIA SUL QUADERNO ARANCIONE E FAI IL DISEGNO DI OGNI FRASE:
 - > IL GATTO GIOCA CON IL GOMITOLO DI LANA.
 - > I MAGHI E LE STREGHE MANGIANO INSIEME UN PIATTO DI SPAGHETTI.

- LIBRO LETTURA > LEGGI ALMENO 5 VOLTE PAG. 24

- COMPLETA LE SCHEDE ALLEGATE:
 - PICCOLE STORIE
 - OSSERVO E SCRIVO
 - AL POSTO GIUSTO
 - LA GARA TRA MAGHI E STREGHE
 - RITAGLIO, INCOLLO E SCRIVO

STORIA

- LIBRO "QUADERNO DISCIPLINE" > COMPLETA PAG: 65
- SCHEDA UN GIORNO CON LUCA (CHI NON POTESSE STAMPARLA PUO', SU UN FOGLIO, SCRIVERE L'AZIONE COMPIUTA E IN CHE MOMENTO DEL GIORNO)

GEOGRAFIA

- LIBRO "QUADERNO DISCIPLINE" > COMPLETA PAG.70

UN ABBRACCIO E BUONA SETTIMANA

MAESTRA SILVIA

PICCOLE STORIE

🕒 Leggi le storie e poi rispondi: usa le crocette.



NEL CIELO VOLA
UN'AQUILA GRANDE.



NEL NIDO CI SONO TRE
PICCOLI AQUILOTTI CHE
FANNO «CIP, CIP».



CARLOTTA È UNA
BAMBINA PICCOLA E VIVE
IN UNA GRANDE CITTÀ.



LE PIACE ANDARE AL
SUPERMERCATO CON LA
SUA MAMMA.

IO SONO TARTARUGA GAETANA.
QUANDO ARRIVA LA SERA MI
NASCONDO NELLA MIA CASETTA.



CHI È GAETANA?



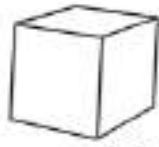


















CHI È CARLOTTA?



OSSERVO E SCRIVO

© Osserva i disegni e scrivi i nomi.

CA CO CU	 BAR.....	 FI.....	 LUMA.....	BO
CIA CIO CIU	CO	MBELLA	 BRAC.....	BATTE
GA GO GU	MMA	FO	 RA.....	TTO
GIA GIO GIU	DICE	CCA	 SPIAG.....	 FORMAG.....
CE CI GE GI	STO	RAFFA	LATO	POLLA

AL POSTO GIUSTO

© Ricopia le parole seguenti al posto giusto.

CINEMA – PANCHINA – GEMELLI – RIGHE – GIOSTRA

CUGINA – AGHI – GIRASOLE – FORMICHE – CERVO

NOCE – TACCHI – CUCINA – GELATO – AMICHE – UNGHIE

ALGHE – FORCHETTA – GESSO – GHIAIA – FORBICI

MARGHERITA – DOLCE – CERCHI

CE – CI

CHE – CHI

GE – GI

GHE – GHI

LA GARA TRA MAGHI E STREGHE

© Completa la storia con le parole di GHE, GHI che trovi nei riquadri.

AGHI

SPIGHE

LAGHI

DRAGHI

TARTARUGHE

FUNGHI

SPAGHETTI

MUGHETTI

UNA VOLTA MAGHI E STREGHE FECERO
UNA GARA PER DECIDERE CHI AVEVA PIÙ POTERI.



I MISERO INSIEME



TRE, DUE 

E DUE PICCOLI 

MESCOLARONO TUTTO CON CURA E APPARVERO





CENTO CHE SPUTAVANO FUOCO.



LE, PER NULLA SPAVENTATE,

PRESERO ALCUNE 


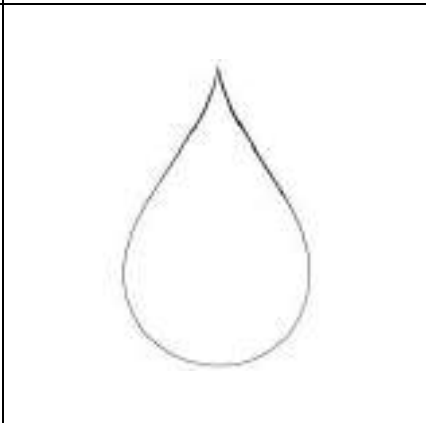





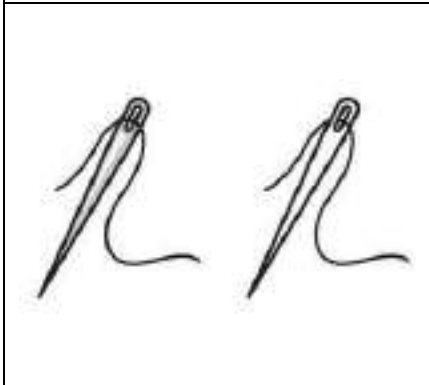
DELLE , DEI 

E TRASFORMARONO I  FEROCI

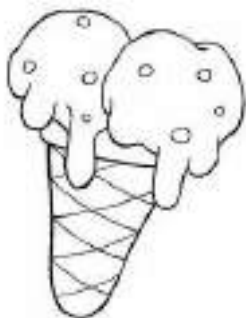

IN BUONI 

F. Re, M. Borella, *Comincia così*, Theorema Libri

RITAGLIO, INCOLLO SUL QUADERNO ARANCIONE E SCRIVO IL NOME IN STAMPATO MAIUSCOLO E MINUSCOLO (“ VESTITO BIBLIOTECA”)



RITAGLIO, INCOLLO SUL QUADERNO ARANCIONE E SCRIVO IL NOME IN STAMPATO MAIUSCOLO E MINUSCOLO (" VESTITO BIBLIOTECA")



UN GIORNO CON LUCA

1 OSSERVA, POI INDICA LA GIUSTA PARTE DEL GIORNO SCRIVENDO...

M per **M**ATTINA

P per **P**OMERIGGIO

S per **S**ERA

N per **N**OTTE



Carissimi genitori e bambini, proseguiamo con il lavoro,

invio le attività da eseguire (sono in ordine e numerate), alcune andrebbero stampate ma chi non può non si preoccupi, come la scorsa settimana potete usarle come modello ricopiandole.

MATEMATICA

- Quaderno delle discipline pag. 24/ 25

Schede allegate

- Sottrazioni sulla linea dei numeri
- Regoli ed amici del 10 con scheda a colori di supporto
- Addizioni sulla linea dei numeri
- Scheda n°4
- Conticini
- Scheda n°6
- La freccia dice...
- Riscrivi i numeri ordinandoli
- Sulla linea dei numeri
- Tabelle: addizione
- Tabelle: sottrazione

SCIENZE



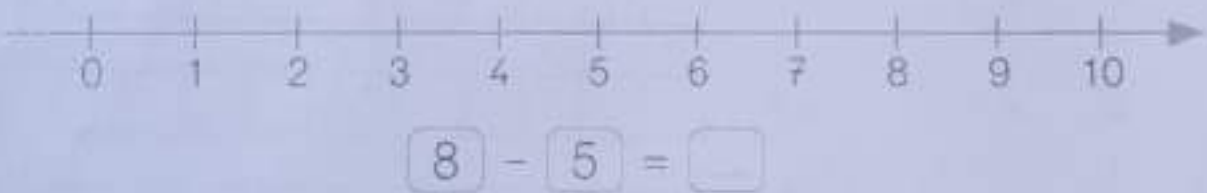


- Quaderno delle discipline pag.59

Ciao a tutti e buon lavoro!

La maestra *Patrizia*

SULLA LINEA DEI NUMERI

- 1 ESEGUI LE SOTTRAZIONI SULLA LINEA DEI NUMERI. SEGUI L'ESEMPIO.



Esegui le sottrazioni utilizzando la linea dei numeri.

2

+ SCHEDE
A COLORI

FACCIAMO 10 PER

SOTTILMENTE COLORI REGOLI

ATTIVITÀ 97

↓
SLEGATA
SI COME
AUTO



NON STAPPATELA!

CON I REGOLI

1 Osserva come è composto il numero 10 e completa.

10 boxes in a row

10 e 0

$10 + 0 = \dots$

9 boxes in a row, 1 box to the right

9 e 1

$9 + 1 = \dots$

8 boxes in a row, 2 boxes to the right

8 e

$8 + \dots = \dots$

7 boxes in a row, 3 boxes to the right

7 e

$\dots + \dots = \dots$

6 boxes in a row, 4 boxes to the right

e

$\dots + \dots = \dots$

5 boxes in a row, 5 boxes to the right

e

$\dots + \dots = \dots$

4 boxes in a row, 6 boxes to the right

4 e

$\dots + \dots = \dots$

3 boxes in a row, 7 boxes to the right

3 e

$\dots + \dots = \dots$

2 boxes in a row, 8 boxes to the right

e

$\dots + \dots = \dots$

1 box in a row, 9 boxes to the right

e

$\dots + \dots = \dots$

FACCIAMO 10

1 COLORA IL REGOLO CHE SERVE A FARE 10 E COMPLETA LE OPERAZIONI.



$$0 + 10 = 10$$



$$\dots + 0 = \dots$$



$$1 + 9 = 10$$



$$\dots + 1 = \dots$$



$$2 + 8 = \dots$$



$$\dots + 2 = \dots$$



$$3 + 7 = \dots$$



$$\dots + 3 = \dots$$



$$4 + 6 = \dots$$



$$\dots + 4 = \dots$$



$$5 + 5 = \dots$$



$$\dots + 5 = \dots$$

3

IL NUMERO


ADDIZIONI SULLA LINEA DEI NUMERI

1 OSSERVO I SALTI DELLA FARFALLA E COMPLETO.

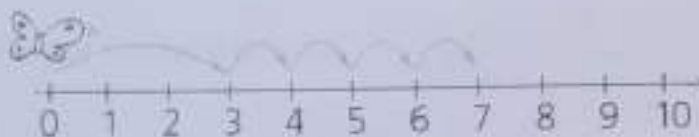
$$\boxed{2} + \boxed{4} =$$




$$\boxed{5} + \boxed{1} =$$



$$\boxed{3} + \boxed{4} =$$




$$\boxed{5} + \boxed{3} =$$



2 OSSERVO L'OPERAZIONE E DISEGNO I SALTI DELLA FARFALLA.


$$\boxed{3} + \boxed{1} = 4$$



$$\boxed{6} + \boxed{2} = 8$$



$$\boxed{1} + \boxed{5} = 6$$



3 COMPLETO CON I NUMERI AMICI PER FARE 10.

$$1 + \quad = 10 \quad 4 + \quad = 10 \quad 7 + \quad = 10$$

$$2 + \quad = 10 \quad 5 + \quad = 10 \quad 8 + \quad = 10$$

$$3 + \quad = 10 \quad 6 + \quad = 10 \quad 9 + \quad = 10$$




Aiutatevi con la linea dei numeri.

OLA SO

Seguire addizioni entro il numero 10 sulla linea dei numeri.

4

1 Collego le nuvole e gli aerei che insieme formano una da.



2 Aggiungo il numero necessario per formare una da.

$$4 + \square = 1 \text{ da}$$

$$1 \text{ da} = 10 + \square$$

$$\square + 2 = 1 \text{ da}$$

$$1 \text{ da} = \square + 5$$


$$7 + \square = 1 \text{ da}$$

$$1 \text{ da} = 3 + \square$$

$$\square + 1 = 1 \text{ da}$$

$$1 \text{ da} = \square + 6$$

3 Coloro di rosso solo i fiori con i numeri che formano una da.




ORA SO...
Comporre e scomporre il numero 10.

5

CONTICINI

$10 + 1 = 11$



$10 + 2 = 12$



$10 + 3 =$

$10 + 4 =$

$10 + 5 =$


$10 + 6 =$

$10 + 7 =$

$10 + 8 =$

$10 + 9 =$

$10 + 10 =$



6

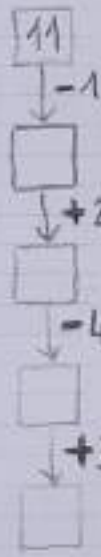
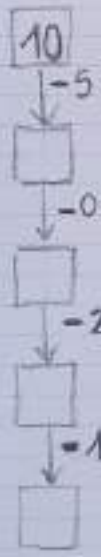
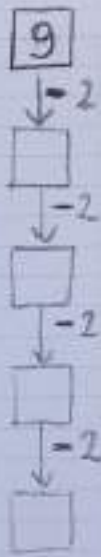
CONTINUA FINO A 20.

10 - 11 - 12 -

14 -

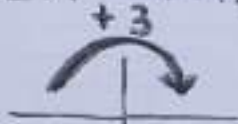
4 -

CATENE



⑦

LA FRECCIA DICE ...



2 5

$$2 + 3 = 5$$

10

$$10 + 3 =$$

4

$$4 + 3 =$$

1

.

9

.



4 2

$$4 - 2 = 2$$

8

10

3

7

8

RISCRIVI I NUMERI ORDINAN
DOLI DAL MINORE AL
MAGGIORE.

8 - 12 - 19 - 2 - 15 - 10 - 9 - 7





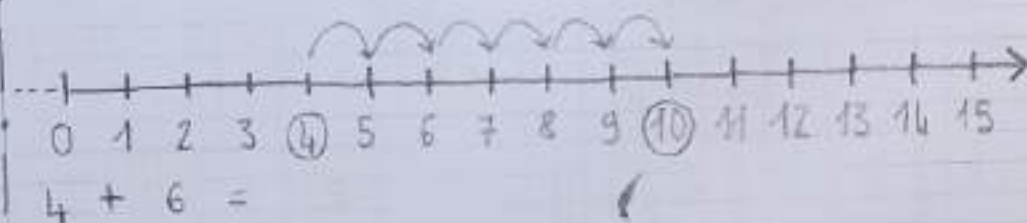
RISCRIVI I NUMERI ORDINAN
DOLI DAL MAGGIORE AL
MINORE.

19 - 11 - 10 - 3 - 14 - 17 - 5 - 9

9

RICORDO: PARTO DAL 1° NUMERO, FACILIO I SALTI 2° NUMERO ARRIVO AL RISULTATO.

SULLA LINEA DEI NUMERI



10

COMPLETA LE TABELLE

DELL' ADDIZIONE. (RICORDA UN NUMERO IN TESTA E POI AGGIUNGI L'ALTRO)

$\begin{array}{l} \rightarrow \\ + \\ \downarrow \end{array}$	4	1	5
3			
2			

$\begin{array}{l} \rightarrow \\ + \\ \downarrow \end{array}$	5	4	6
6			
5			

$\begin{array}{l} \rightarrow \\ + \\ \downarrow \end{array}$	9	7	5
6			
8			

$\begin{array}{l} \rightarrow \\ + \\ \downarrow \end{array}$	10	9	6
8			
4			

$\begin{array}{l} \rightarrow \\ + \\ \downarrow \end{array}$	3	5
2		
1		
4		

$\begin{array}{l} \rightarrow \\ + \\ \downarrow \end{array}$	5	6
3		
7		
4		

TABELLE 2

1 COMPLETA LE TABELLE DELLA SOTTRAZIONE.

$\begin{array}{c} \curvearrowright \\ - \end{array}$	2	6	5
6			
8			

$\begin{array}{c} \curvearrowright \\ - \end{array}$	1	3	4
10			
9			

$\begin{array}{c} \curvearrowright \\ - \end{array}$	4	0	5
10			
9			

$\begin{array}{c} \curvearrowright \\ - \end{array}$	2	5	6
7			
8			

$\begin{array}{c} \curvearrowright \\ - \end{array}$	6	4	9
10			
9			

$\begin{array}{c} \curvearrowright \\ - \end{array}$	8	7	5
9			
10			

Eeguire sottrazioni entro il 10.