

BUONGIORNO A TUTTI! ATTIVITA' DAL 27 AL 30 APRILE

- **ITALIANO**

PRIMA GUARDA CON ATTENZIONE I VIDEO

https://youtu.be/p_OVH6Ar1HQ

<https://youtu.be/vmWgPcPdymE>

POI SVOLGI LE ATTIVITA' RELATIVE

- COPIA LA SPIEGAZIONE SUL QUADERNO
- SCHEDA SCA, SCO, SCU, SCHE, SCHI
- SCHEDA SCHI – SCHE
- FILASTROCCA DELLA MOSCA
- LAVORI DA INVIARE ALLA MAIL → COMPLETA IL CRUCIVERBA
→ LEGGI E COLLEGA

- **STORIA**

- SCHEDA BRUCO → I MESI DELL'ANNO

- **IMMAGINE**

- VIDEO → COME DISEGNARE GLI ANIMALI

CONSIGLI SU COME DISEGNARE FACILI ANIMALI PERTENDO DA UN CERCHIO. PROVATE, (MENTRE DISEGNATE FERMATE IL VIDEO QUANDO VI SERVE E POI RIPARTITE QUANDO SIETE PRONTI) E DIVERTITEVI!

<https://youtu.be/cDUTgiaMWqM>

BUONA SETTIMANA A TUTTI.

UN BACIO MESTRA SILVIA

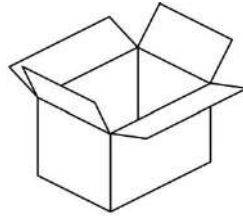
LEGGI LA SPIEGAZIONE E COPIA SUL QUADERNO ARANCIONE

ABBIAMO GIA' VISTO IL SUONO **S**

PROVIAMO ORA A FARLO GIOCARE CON **CA CO CU**

IL SUONO SARA' DURO

SC + A → **SCA** **SCATOLA** scatola



SC + O → **SCO** **SCOPA** scopa



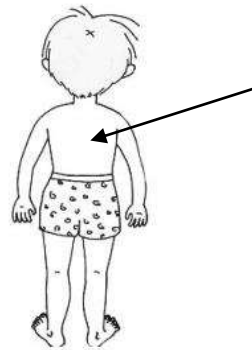
SC + U → **SCU** **SCUDO** scudo



E SE **S** INCONTRA **CHI** E **CHE**?

SEMPRE **SUONO DURO**

S + CHI → **SCHI** **SCHIENA** schiena




S + CHE → **SCHE** **SCHIELETRO** scheletro



SCA - SCO - SCU - SCHE - SCHI

• Completa le parole con SCA, SCO, SCU, SCHE, SCHI.



.....olabus




teo



moftone



.....laro



bo



.....uma



.....la



.....rmo



.....rpe



pereccio



boiolo



.....accianoci

SCHI - SCHE

SEGUI LA DIREZIONE DELLA FRECCIA, COLORA LE PAROLE NASCOSTE CHE CONTENGONO SCHI-SCHE.

RITAGLIA LA SCHEDA, INCOLLA SUL QUADERNO ARANCIONE E RISCRIVI SOTTO LE PAROLE CHE HAI TROVATO IN STAMPATO MAIUSCOLO E MINUSCOLO

(SE NON PUOI STAMPARE SCRIVI DIRETTAMENTE SUL QUADERNO ARANCIONE LE PAROLE CHE HAI TROVATO)


→

CA	SCHI	NO	SCHE	DA
CHI	STA	MA	SCHE	RA
MO	SCHE	VA	BO	SCHI
TE	SCHIAC	CIA	NO	CI
TA	SCHE	SA	SCHER	MO
SCAR	PE	NA	CHI	RE
DE	RI	SCA	LA	NO

**LEGGI, COPIA SUL QUADERNO, CERCHIA DI ROSSO LE PAROLE CON
SCA, SCO, SCU, FAI IL DISEGNO E IMPARA A MEMORIA**

FILASTROCCA DELLA MOSCA


DI SCATTO SI MUOVE
UNA MOSCA COL CASCO
NASCOSTA NEL BOSCO
E PARLA COSÌ:
“SON SCURA E NOIOSA
VELOCE E ANSIOSA
MA AMO LA PESCA
E ADORO LA LISCA
MI MUOVO, TOSSISCO
E ADESSO SPARISCO”



LEGGI CON ATTENZIONE, CERCHIA LE PAROLE CHE CONTENGONO SCA, SCO, SCU, COLLEGA LE FRASI ALLE IMMAGINI POI COLORA



NEL BOSCO, IL BOSCAIOLO CON LA
SCALA E LA SCURE, VEDE UNO
SCOIATTOLO



LUNGO IL FIUME UN PESCATORE
SISTEMA LA SUA CANNA DA PESCA



SIU RIPIANI DI UNO SCAFFALE, ANDREA
PRENDE UNA SCATOLA DI COLORI.

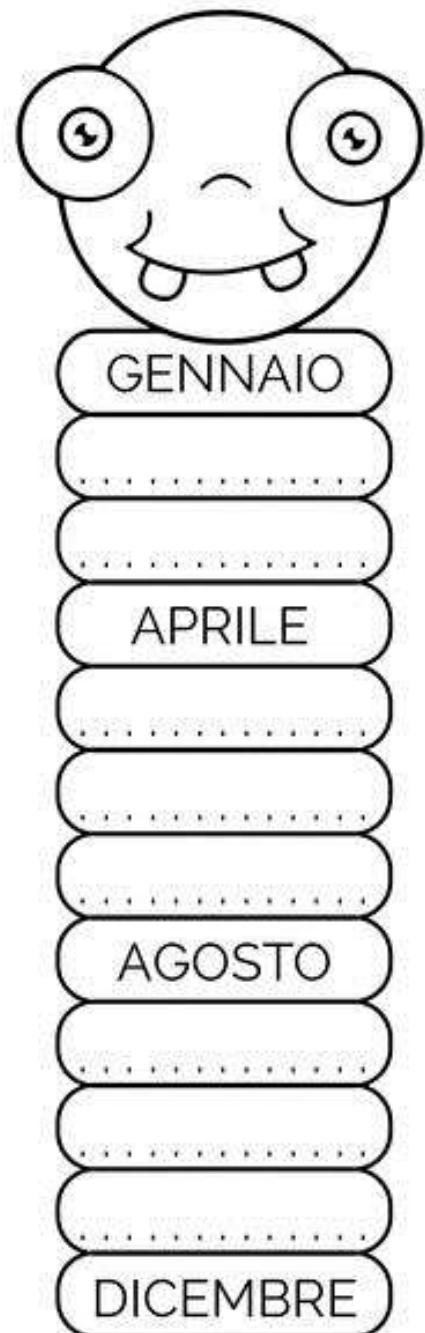
STORIA → LAVORO DA INVIARE ALLA MAIL

SE NON PUOI STAMPARE DISEGNA SOLO IL BRUCO, SCRIVI IL NOME DEI MESI E COLORA NEL MODO INDICATO

I mesi dell'anno

- Completa il disegno del bruco con i nomi dei mesi dell'anno che mancano e poi coloralo come indicato.

- Colora di rosso il mese di Natale.
- Colora di giallo il mese in cui inizia la scuola.
- Colora di azzurro il mese in cui finisce la scuola.
- Colora di arancione il mese di Halloween.
- Colora di rosa il mese della festa della mamma.
- Colora di marrone il mese della festa del papà.
- Colora di viola il mese della Befana.
- Colora di grigio il mese del Carnevale.
- Colora di fucsia il mese che viene prima di maggio.
- Colora di blu il mese che viene prima di dicembre.
- Colora di verde chiaro il mese che viene dopo giugno.
- Colora di verde scuro il mese che viene prima di agosto.



CARISSIMA 1 A ... continuiamo con le nostre attività dal 27 APRILE

MATEMATICA: operiamo con i numeri, ho inserito anche due linee di numeri da ritagliare ed utilizzare come supporto per tutte le attività.

Video per ripasso amici del 10

<https://www.youtube.com/watch?v=P-c1EHuHOuo>

<https://www.youtube.com/watch?v=CUsx-0nySHk>

eseguo le schede:

Cerchia gli amici del 10

Gli amici delle decine

Completa

Aggiungi toglì

Da restituire tramite mail:

- ❖ Che numero manca?(1)
- ❖ Che numero manca?(2)

SCIENZE

Argomento: il ciclo vitale di piante e animali

<https://www.youtube.com/watch?v=lxXD5bTcjMw>

<https://www.youtube.com/watch?v=HFDmvmlo05o>

eseguo scheda: Il cerchio della vita

<https://www.youtube.com/watch?v=s2SMXhcFocI> (segui l'indicazione per il lavoro)

TECNOLOGIA

scheda: il materiale degli oggetti

INGLESE

Ripasso dei cinque sensi con gli ascolti:

- <https://www.youtube.com/watch?v=OEi39haJwHk>
- <https://www.youtube.com/watch?v=LNajQTnZviQ>
- <https://www.youtube.com/watch?v=666UZRBO5q8> (canzone da Mr. Teddy)

A TUTTI GRAZIE !

BUON LAVORO E... UN GRANDISSIMO ABBRACCIO

La maestra Daniela

CERCHIA GLI AMICI DEL 10.

(ESEGUI POI I CALCOLI)

$$\textcircled{5} + \textcircled{5} + 2 = 12$$

$$5 + 5 + 5 =$$

$$6 + 5 + 4 =$$

$$5 + 2 + 8 =$$

$$3 + 3 + 7 =$$

$$1 + 4 + 9 =$$

$$8 + 2 + 1 =$$

$$4 + 9 + 6 =$$

$$7 + 2 + 3 =$$

$$10 + 8 + 0 =$$

$$7 + 0 + 3 =$$

$$0 + 10 + 2 =$$

GLI AMICI DELLE DECINE

$1 + 9 =$

$11 + 9 =$

$2 + 8 =$

$12 + 8 =$

$3 + 7 =$

$13 + 7 =$

$4 + 6 =$

$14 + 6 =$

$5 + 5 =$

$15 + 5 =$

$6 + 4 =$

$16 + 4 =$

$7 + 3 =$

$17 + 3 =$

$8 + 2 =$

$18 + 2 =$

$9 + 1 =$

$19 + 1 =$

$0 + 10 =$

$10 + 10 =$

$10 + 0 =$

$20 + 0 =$

COMPLETA

$14 - 4 =$

$13 - 3 =$

$17 - 7 =$

$18 - 8 =$

$11 - 1 =$

$12 - 2 =$

$15 - 5 =$

$16 - 6 =$

$19 - 9 =$

$16 + 4 =$

$18 + 2 =$

$17 + 3 =$

$11 + 9 =$

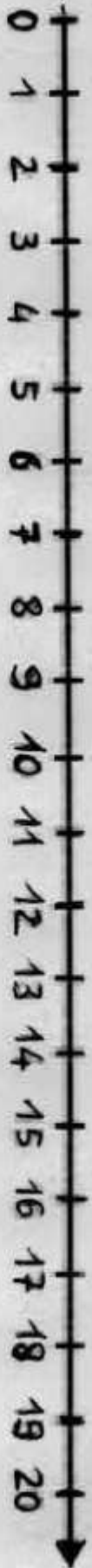
$12 + 8 =$

$14 + 6 =$

$13 + 7 =$


$15 + 5 =$

$19 + 1 =$



AGGIUNGI

TOGLI




- 3
- 1
- 7
- 9
- 2
- 4
- 6
- 8
- 10

- 15
- 11
- 19
- 13
- 12
- 14
- 19
- 16
- 20



CHE NUMERO MANCA? (1)

1 CON L'AIUTO DELLA LINEA DEI NUMERI SCOPRI L'ADDENDO CHE MANCA E COMPLETA LE ADDIZIONI.



$$11 + 3 + \boxed{\dots\dots\dots} = 20$$

$$16 + 2 + \boxed{\dots\dots\dots} = 20$$

$$12 + 3 + \boxed{\dots\dots\dots} = 20$$

$$10 + 7 + \boxed{\dots\dots\dots} = 20$$

$$14 + 2 + \boxed{\dots\dots\dots} = 20$$

$$15 + 3 + \boxed{\dots\dots\dots} = 20$$

$$11 + 5 + \boxed{\dots\dots\dots} = 20$$

$$12 + 5 + \boxed{\dots\dots\dots} = 20$$

$$13 + 6 + \boxed{\dots\dots\dots} = 20$$

$$10 + 9 + \boxed{\dots\dots\dots} = 20$$

$$6 + 4 + \boxed{\dots\dots\dots} = 20$$

$$7 + 6 + \boxed{\dots\dots\dots} = 20$$

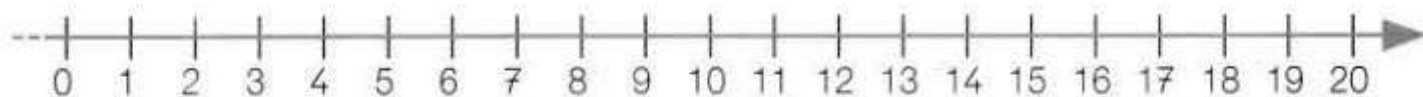
$$7 + 5 + \boxed{\dots\dots\dots} = 20$$

$$9 + 5 + \boxed{\dots\dots\dots} = 20$$

Eseguire addizioni entro il 20 con tre addendi.

CHE NUMERO MANCA? (2)

1 CON L'AIUTO DELLA LINEA DEI NUMERI SCOPRI IL NUMERO CHE MANCA E COMPLETA LE SOTTRAZIONI.



$$16 - \boxed{\dots} = 12$$

$$20 - \boxed{\dots} = 13$$

$$17 - \boxed{\dots} = 8$$

$$18 - \boxed{\dots} = 15$$

$$15 - \boxed{\dots} = 9$$

$$19 - \boxed{\dots} = 9$$

$$13 - \boxed{\dots} = 5$$

$$14 - \boxed{\dots} = 7$$

$$16 - \boxed{\dots} = 11$$

$$15 - \boxed{\dots} = 10$$

$$12 - \boxed{\dots} = 6$$

$$19 - \boxed{\dots} = 12$$


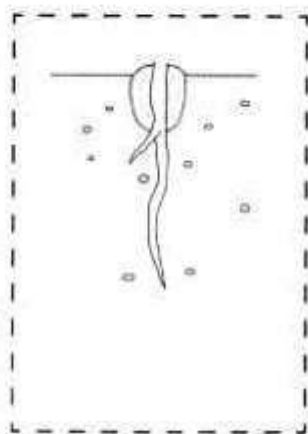


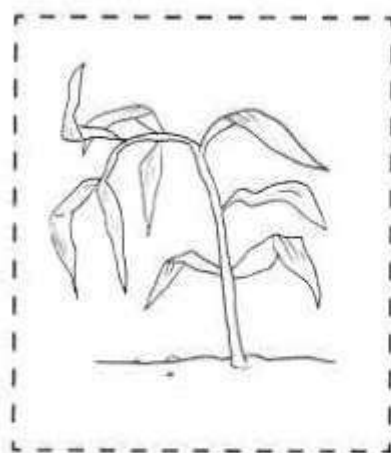

$$11 - \boxed{\dots} = 4$$

$$17 - \boxed{\dots} = 11$$

Eeguire sottrazioni entro il 20.

IL CERCHIO DELLA VITA

✂ Ritaglia le immagini e incollale sul quaderno in modo da ottenere le fasi del ciclo vitale di una pianta e di un animale.



CONOSCENZE: il ciclo vitale di piante e animali.

IL MATERIALE DEGLI OGGETTI


Colora il riquadro che indica il materiale giusto:

bicchiere	LEGNO	VETRO	STOFFA
scrivania	STOFFA	CARTA	LEGNO
cacciavite	VETRO	STOFFA	METALLO
zaino	STOFFA	LEGNO	CARTA
occhiali	VETRO	CARTA	LEGNO
libro	PLASTICA	VETRO	CARTA
coperta	CARTA	METALLO	LANA

Completa poi disegna nell'insieme altri oggetti fatti con quel materiale:



è di come



è di come



è di come



è di come



