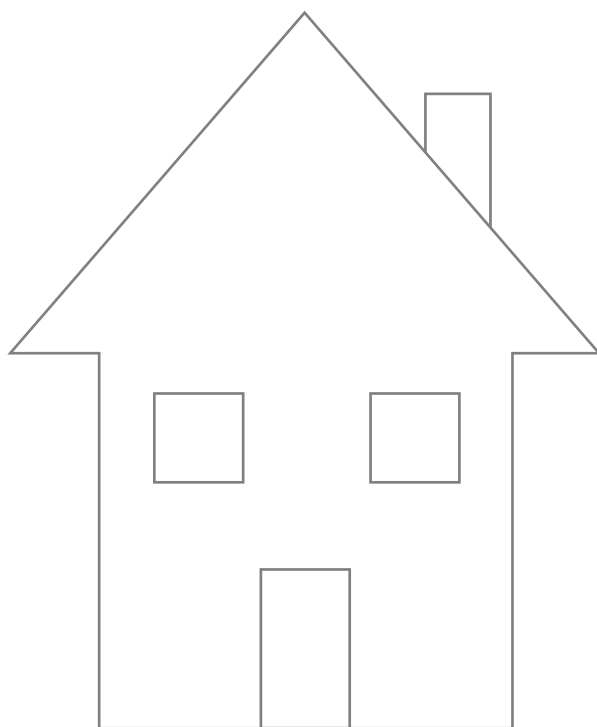


- 🌀 Ripassa in rosso i tratti di linea retta obliqui, in verde quelli orizzontali e in giallo quelli verticali. Poi completa il disegno utilizzando delle linee curve per disegnare la strada, delle linee spezzate per le montagne e delle linee miste per gli alberi.



NOME:

COGNOME:

DATA:



Produrre e classificare linee.

SIMMETRIE DEL CONTADINO

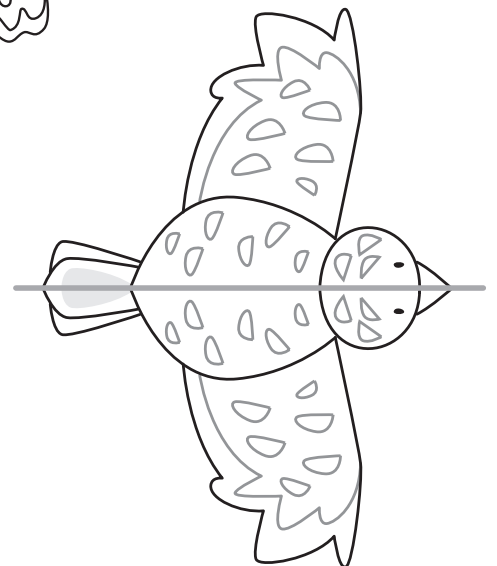




- 1 Ritaglia la figura, poi piegala seguendo la linea tratteggiata in modo da individuare l'**asse di simmetria interno**: ripassalo di rosso.

Dividi la figura in due parti che si sovrappongono.

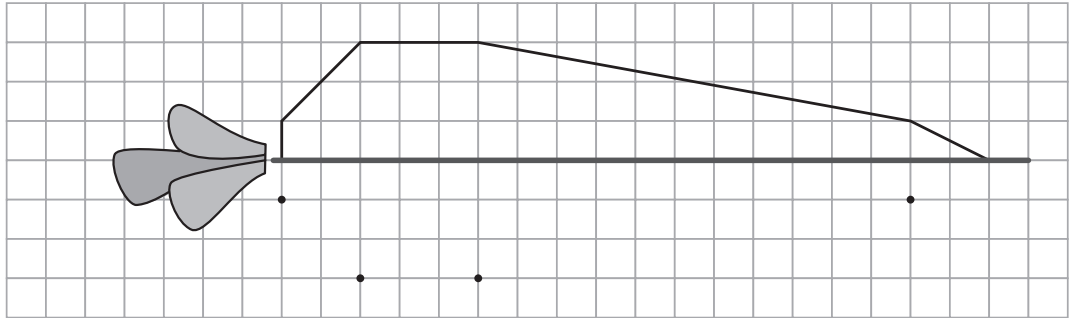


- 2 In ogni figura è stato tracciato l'**asse di simmetria interno**: colora in modo che le due parti siano uguali e combacino.

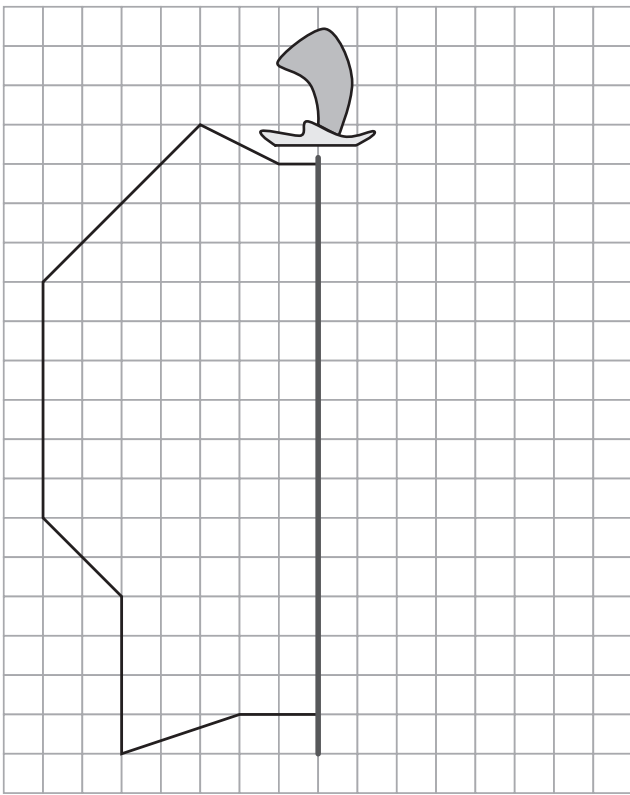


3 Ripassa con un colore l'asse di simmetria interno, poi completa le figure.

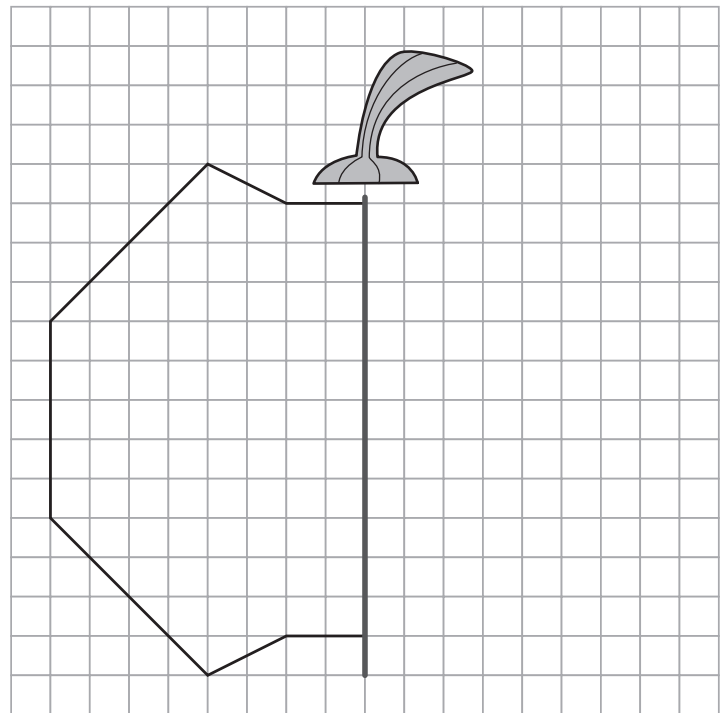
La carota



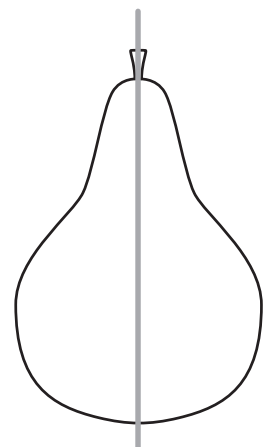

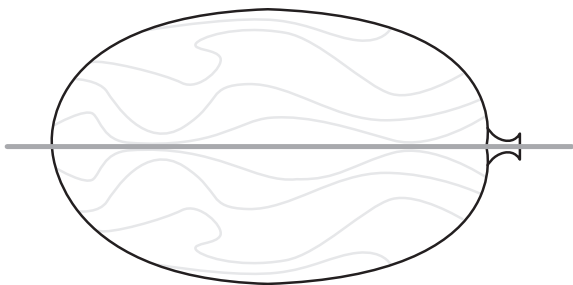
Il peperone



La zucca


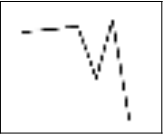


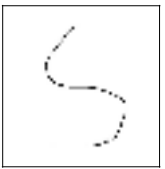

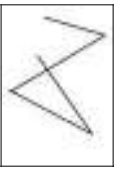

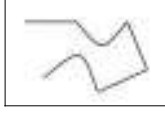

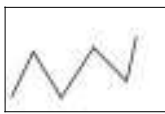



4 In quale frutto non è stato tracciato correttamente l'asse di simmetria? Coloralo e completa.



Ho colorato perché

.....

1.  A LINEE RETTE
B LINEE CURVE
C LINEE SPEZZATE
D LINEE MISTE
2.  A LINEE RETTE
B LINEE CURVE
C LINEE SPEZZATE
D LINEE MISTE
3.  A LINEE RETTE
B LINEE CURVE
C LINEE SPEZZATE
D LINEE MISTE
4.  A LINEE RETTE
B LINEE CURVE
C LINEE SPEZZATE
D LINEE MISTE
5.  A LINEE RETTE
B LINEE CURVE
C LINEE SPEZZATE
D LINEE MISTE
6.  A LINEE RETTE
B LINEE CURVE
C LINEE SPEZZATE
D LINEE MISTE
7.  A LINEE RETTE
B LINEE CURVE
C LINEE SPEZZATE
D LINEE MISTE
8.  A LINEE RETTE
B LINEE CURVE
C LINEE SPEZZATE
D LINEE MISTE
9.  A LINEE RETTE
B LINEE CURVE
C LINEE SPEZZATE
D LINEE MISTE
10.  A LINEE RETTE
B LINEE CURVE
C LINEE SPEZZATE
D LINEE MISTE
11.  A LINEE RETTE
B LINEE CURVE
C LINEE SPEZZATE
D LINEE MISTE
12.  A LINEE RETTE
B LINEE CURVE
C LINEE SPEZZATE
D LINEE MISTE

NOME CLASSE DATA

TI LASCIO UN BIGLIETTO PER...

- 1 Tu sei i bambini che parlano. Scrivi i messaggi sui foglietti.



Scrivere messaggi consegnati allo stampo.

NOME CLASSE DATA

LA FRASE MINIMA

- 1 Osserva i disegni, rispondi alle domande e forma frasi piccole piccole, come nell'esempio.

Di chi si parla?
Che cosa si dice?



3 fiori
profumano.



.....
.....



.....
.....



.....
.....

Di chi si parla?
Che cosa si dice?



.....
.....



.....
.....



.....
.....



.....
.....

- 2 Sottolinea la frase minima, come nell'esempio.

La pioggia cade sulla strada.

Il pesce nuota nel mare.

Sara legge a voce alta.

Il pane lievita al caldo.

La neve cade silenziosa sui tetti.

Una coccinella vola sui fiori colorati.

NOME CLASSE DATA

L'ORDINE DELLE PAROLE NELLA STORIA

- 1 Metti in ordine le parole e scrivi le frasi: potrai conoscere la storia.

Una sorpresa in giardino

trovano
bambini
giardino.
cestino

Due
un
in



Due bambini

cestino
Nel
c'è
nato.

un
accena
gattino



Nel

il
casa
bambini
portano

il
gattino.
a



I bambini

Ritaglia e piega la struttura della frase.

I VERBI

Leggi e sottolinea le **AZIONI** di Anna e della gattina, poi completa la tabella

Anna e la gattina



Ogni giorno Anna e la gattina giocano. La gattina arriva di corsa, saltella intorno alle gambe di Anna, la mordicchia, giocherella. Anna la prende in braccio, piano per non farle male. Dopo un po' Anna la rimette a terra e lei scappa, esce dalla stanza e si nasconde. Anna va a cercarla, la trova distesa dietro la cesta dei giocattoli. Si avvicina piano piano, La gattina la guarda, socchiude gli occhi e si

lascia accarezzare.

B. Garau e G. Petter - Due bambini e una gattina – Giunti Marzocco

ANNA	GATTINA

RICORDA

Anna e la gattina giocando compiono tanti movimenti, tante **AZIONI**. In grammatica le AZIONI si chiamano **VERBI**



C'È PAESAGGIO E PAESAGGIO • B

Gli elementi del paesaggio possono essere:

opera della **natura**

si chiamano
ELEMENTI FISICI
o **NATURALI**



opera dell'**uomo**

si chiamano
ELEMENTI ANTROPICI




TANTI
PAESAGGI

.....
.....
.....
.....
.....
.....
.....

Elementi naturali e antropici

- Osserva il disegno e completa le tabelle.



ELEMENTI NATURALI

.....

.....


.....

.....

.....

.....

.....



ELEMENTI ANTROPICI

.....

.....

.....

.....

.....

.....

.....

LINK UTILI PER ITALIANO

<https://youtu.be/DtmOHj5Qk6Y>

<https://youtu.be/65cx9kwD4JQ>

LINK UTILI PER MATEMATICA

<https://wordwall.net/it/resource/1049157/matematica/le-linee>

LINK UTILE PER GEOGRAFIA

<https://youtu.be/IUEf7N6QxMg>